



مرکز مدیریت حوزه‌های علمیه

معاونت آموزش

اداره کل سنجش و پذیرش

سوالات آزمون ورودی


موزه‌های علمیه سراسر کشور

پایه هشتم

دوره اول متوسطه

مدت پاسخگویی: ۱۵۰ دقیقه

تعداد سوالات: ۱۰۰ سؤال



سال تحصیلی ۹۵-۹۴

حمیدرضا فلاح
حمیدرضا فلاح نفتی



السلام علیک یا ابا عبدالمطلب



خانه • گالری تصاویر • آرشیو نماهنگ • تماس با ما

لینکدونی

نجوای حضرت رقیه با پدر در خرابه شام (42)

شش ماه گریه برای اجابت یک حاجت (34)

سربندی از جنس نور (31)

امام حسین در انتظار شهداء: عملیات والفجر (33)

آخرین خداحافظی (85)

روح شهید حسین غفاری نژاد زنده است و با داعش می جنگد (89)

پنج سال خاطره با شهید حسین غفاری نژاد + فیلم منتشر نشده (74)

مجموعه مناجات های تصویری ماه مبارک رمضان با نوای عبدالرضا هلالی (158)



تازه های وبلاگ

گزارش تصویری دسته عزاداری طلاب مدرسه علمیه شهیدین در روز شهادت حرکت دسته عزاداری طلاب مدرسه علمیه شهیدین در روز جمعه ۲۸ اسفند ۱۳۹۳ (10) نظرات



اشک های امام صادقی در غربت فاطمیون

از بنشاور شکری نقل شده است که گوید: در شهر کوفه به شنبه ۲۲ اسفند ۱۳۹۳ (10) نظرات



گنجی به نام امام زمان علیه السلام

بگرد از طلاب حوزه علمیه قم عتابی از امام زمان ارواحنا فداه جمعه ۲۰ بهمن ۱۳۹۳ (10) نظرات




مشاهده آرشیو وبلاگ



ایمیل برای خبرنامه



hrfallah • 74w



ترسم تو بیدایی و من آن روز نباشم

236

10

Instagram

قرآن

۱. معنای درست کلمه قرآنی «مُفْرِض» کدام گزینه است؟
 ۱. روی گردان ۲. عرضه کننده ۳. بازگشتن ۴. باز کننده
۲. معنای درست ترکیب قرآنی «مَاءٌ طَهُورًا» کدام گزینه است؟
 ۱. آبی شفاف ۲. آبی پاک کننده ۳. آبی گوارا ۴. آبی نوشیدنی
۳. مناسب ترین معنا برای ترکیب قرآنی «فَسَجَدَ الْمَلَائِكَةُ» کدام گزینه است؟
 ۱. پس امر به سجده کرد فرشتگان را ۲. پس سجده کردند فرشتگان را
 ۳. پس سجده کردند فرشتگان ۴. پس سجده کرد با فرشتگان
۴. ترجمه کدام ترکیب درست نیست؟
 ۱. وَأَخْسِنُ: و نیکو ساخت ۲. اِخْتَبَرُوا: بگیرید ۳. اِجْتَنَبُوا: دوری کردند از ۴. حَسِبَ: گمان کرد
۵. با توجه به ترجمه، کدام گزینه عبارت «وَتَعَالَى... يُشْرِكُونَ» (خداوند برتر است از آنچه شریک او قرار می دهند) را کامل می کند؟
 ۱. فِيمَا ۲. مِمَّا ۳. عِنْدَمَا ۴. عَمَّا
۶. کدام گزینه، ترجمه صحیح ترکیب قرآنی «وَأَتَقَوْهُ وَأَطِيعُونَ» است؟
 ۱. و با تقوا و پیروی کننده باشید ۲. و تقوای او را پیشه کنید و اطاعت کنید مرا
 ۳. و با تقوا و اطاعت کننده است ۴. و او تقوا پیشه کرد و پیروی کرد او را
۷. کدام گزینه معنای درست عبارت قرآنی «لَوْ كَانُوا يَعْلَمُونَ» است؟
 ۱. باید بدانند ۲. اگر می دانستند ۳. شاید بدانند ۴. حتماً می دانستند
۸. کدام گزینه معنای صحیح عبارت قرآنی «... وَأُولَئِكَ هُمُ الْوَالِدُ الْأَبَابُ» است؟
 ۱. و آنها همان نیکان هستند ۲. و آنها دارای علم هستند
 ۳. و آنها همان خردمندان هستند ۴. و همه آنها دارای تقوا هستند
- * «وَدَاعِيًا إِلَى اللَّهِ بِأَذْنِهِ وَ... مُنِيرًا» (و دعوت کننده ای به سوی خدا به فرمان او و چراغی روشنی بخش).
۹. با توجه به ترجمه فوق، برای جای خالی کلمه مناسب را انتخاب کنید.
 ۱. لِسَانًا ۲. دَلِيلًا ۳. صِرَاطًا ۴. سِرَاجًا
۱۰. کدام گزینه معنای درست کلمه قرآنی «يَغْرُبُ» است؟
 ۱. بالا می رود ۲. فرو می رود ۳. نازل می شود ۴. خارج می شود
۱۱. کدام گزینه معادل قرآنی «قضاوت کن» است؟
 ۱. اِجْتَلِ ۲. اِغْدَلِ ۳. اَحْكَمْ ۴. يَحْكَمْ
۱۲. معنای درست عبارت قرآنی «عَافِرِ الذَّنْبِ» چیست؟
 ۱. گناه آمرزیده شد ۲. می آمرزد گناه را ۳. بخشید گناه را ۴. آمرزنده گناه
۱۳. کدام گزینه ترجمه درست عبارت قرآنی «وَقَالَ رَبِّكُمْ ادْعُونِي أَسْتَجِبْ لَكُمْ...» می باشد؟
 ۱. و گفت: پروردگارتان را بخوانید تا به شما پاسخ دهد ۲. و بگو: برای شما پاسخ می دهد پروردگارتان
 ۳. و بگو: خداوند اجابت می کند دعای شما را ۴. و گفت پروردگارتان: بخوانید مرا تا پاسخ دهم شما را
۱۴. معنای واژه قرآنی «لَا يُخْلِفُ» چیست؟
 ۱. تخلف نمی کند ۲. مخالفت نمی کند ۳. خلافت نمی کند ۴. مخالف نیست

۱۵. معنای واژه قرآنی «مُفْلِحُونَ» چیست؟

۱. رستگاران ۲. درستکاران ۳. کشاورزان ۴. نیکوکاران

دینی

۱۶. با توجه به بیان امام صادق (ع)، منظور از کلمه «نَعِيم» در آیه شریفه «ثُمَّ لَنَسْأَلَنَّ يَوْمَئِذٍ عَنِ النَّعِيمِ» کدام است؟

۱. همه نعمت‌ها ۲. سلامتی و امنیت ۳. اسلام ۴. ولایت اهل بیت (ع)

۱۷. به فرمایش امام صادق (ع)، تیری از تیرهای زهرآگین شیطان است که تخم گناه را در دل انسان می‌کارد و او را به گمراهی می‌کشاند.

۱. کینه ۲. رفتار غضب‌آلود نسبت به پدر و مادر ۳. لقمه حرام ۴. نگاه به نامحرم

* «وَإِنِّي لَفَقَّارٌ لَّن تَابٍ وَأَمَّن وَعَمِلَ صَالِحًا ثُمَّ اهْتَدَى»

۱۸. کلمه «فَقَّارٌ» به چه معناست؟

۱. بخشنده ۲. آمرزنده ۳. بسیار بخشنده ۴. بسیار آمرزنده

۱۹. بر اساس سخن رسول اکرم (ص) در حدیث ثقلین، یگانه راه رسیدن به سعادت و بهشت کدام است؟

۱. ایمان به خدا و عمل صالح ۲. پناه بردن به قرآن و اهل بیت پیامبر (ع)

۳. انجام واجبات و ترک محرمات ۴. دوستی با دوستان خدا و دشمنی با دشمنان خدا

۲۰. در کدام صورت، نماز باطل می‌باشد؟

۱. نماز خواندن با جوراب نجس و خشک

۲. دیدن نجاست لباس یا بدن، بعد از نماز

۳. نماز خواندن با بدن یا لباس آلوده به خون کمتر از یک سکه کوچک

۴. نماز خواندن با لباسی که فقط دکمه‌های آن غصبی باشد

۲۱. خداوند متعال انسان را به واسطه ترک کدام عمل، پست‌تر از حیوان شمرده است؟

۱. عبادت ۲. حسن خلق ۳. تفکر ۴. نوع دوستی

۲۲. رسول اکرم (ص) می‌فرمایند: «عبادت ده جزء دارد که نه جزء آن است».

۱. صبر ۲. گذشت و بخشش ۳. اندیشیدن ۴. کسب حلال

۲۳. آیه «يَا أَيُّهَا الَّذِينَ آمَنُوا لَا تَتَّخِذُوا بِطَانَةَ مَن دُونِكُمْ لَا يَأْلُو نَفْسِكُمْ خَبَالًا وَّذُوآ مَا عَنَتُمْ قَد بَدَتِ الْبَغْضَاءُ مِن أَفْوَاهِهِمْ وَمَا تُخْفِي صُدُورُهُمْ أَكْبَرُ...» به کدام

گزینه اشاره ندارد؟

۱. دشمنی و تفرقه‌افکنی دشمنان دین ۲. ترک مودت و دوستی با غیر هم‌کیشان

۳. ایمان آوردن و ترک آزار دیگران ۴. آشکار بودن دشمنی از کلام دشمنان

۲۴. کدام گزینه از مبطلات روزه است؟

۱. ریختن عمدی آب بر روی سر

۲. فرو بردن عمدی غذای باقی مانده در میان دندان‌ها

۳. کشیدن دندان ۴. خون دادن

۲۵. امیرالمؤمنین (ع) فرمود: دعای کسی به اجابت نزدیک‌تر است که

۱. هنگام صدقه دادن دعا کند ۲. هنگام باریدن باران دعا کند

۳. در دعاهای پنهانی اش ابتدا دیگران را دعا کند ۴. در آمدش را پاک گرداند

۲۶. در آیه کریمه «الْيَوْمَ نَسِيَ الَّذِينَ كَفَرُوا مِنْ دِينِكُمْ» خداوند متعال چه روزی را، روز مأیوس شدن کفار نامیده است؟

۱. روز فتح مکه به دست پیامبر ﷺ و یارانش
۲. هنگام منصوب شدن حضرت علی ﷺ
۳. هنگام ظهور حضرت مهدی ﷺ
۴. زمان نزول کامل قرآن و بیان تمام احکام دین

۲۷. استفاده مردان از انگشتر طلا چه حکمی دارد؟

۱. حرام است ولی موجب بطلان نماز نمی‌شود
۲. حرام است و باعث بطلان نماز می‌شود
۳. در غیر نماز حرام نیست ولی در نماز باعث بطلان می‌شود
۴. احتیاط واجب ترک استفاده از انگشتر طلا در نماز است

۲۸. کدام عمل، سپری در برابر مشکلات دنیا و پوششی در برابر عذاب آخرت است؟

۱. قرائت قرآن
۲. نماز
۳. نماز جماعت
۴. روزه

۲۹. امام صادق ﷺ برای کسی که با طهارت به مسجد برود، چه فضیلتی بر شمرده است؟

۱. خداوند او را در میان زائران خود می‌نویسد
۲. زمان توقف او در مسجد جزء عمرش به حساب نمی‌آید
۳. خدا امور دنیایی او را اصلاح خواهد کرد
۴. در بهشت، همنشین اولیای خدا خواهد شد

۳۰. کدام مورد، حق النفس است؟

۱. امر به معروف
۲. مطالعه کردن
۳. دوری از گناهان
۴. آزار نرساندن به دیگران

فارسی

۳۱. آرایه مقابل کدام گزینه غلط است؟

۱. در مقابل آن آینه‌ها خودشان را برای سال نو آماده می‌کردند ← «کنایه»
۲. خورشید از پشت کوه‌ها سرک می‌کشید و سلاح‌های آهنی را برق می‌انداخت ← «تشخیص»
۳. تعدادی بمب را مثل شانه تخم‌مرغ روی تانک‌های دشمن خالی کرده بود ← «تشبیه»
۴. گاهی گردباد کوچکی لنگ‌لنگان از راه می‌رسید ← «تشخیص»

۳۲. در کدام گزینه رکن تشبیه درست نشان داده نشده است؟

۱. ملخ‌ها دو پای داس‌مانند دارند که اشیاء را برمی‌دارد «مشبه‌به: داس»
۲. دم کشیده طاووس چونان چتری گشوده است «مشبه‌به: چتر»
۳. دم طاووس گویی بادبان کشتی است که ناخدا آن را برافراشته «وجه شبه: برافراشته شدن»
۴. پرهای طاووس چونان برگ خزان‌دیده می‌ریزد «مشبه: برگ خزان دیده»

۳۳. در کدام یک از گروه‌های اسمی زیر «هسته» درست مشخص شده است؟

۱. اخلاق فردی
۲. هفت مروارید سرخ ارزشمند
۳. پنجمین همایش بزرگداشت اندیشمندان
۴. این باغ پر از گل

* اکنون اگر می‌خواهی در مورد شگفتی آفرینش ملخ، سخن بگو که خدا برای او دو چشم سرخ و دو حدقه، چونان ماه تابان آفرید، و به او گوش پنهان و دهانی متناسب اندامش بخشید.

۳۴. بن مضارع فعل‌های عبارت بالا به ترتیب در کدام گزینه آمده است؟

۱. خواست - گوی - آفرین - بخشا
۲. خواه - گو - آفرید - بخش
۳. خواه - گو - آفرین - بخش
۴. خواست - گوی - آفرید - بخشا

* از نویسندگان بزرگ قرن یازدهم هجری است و اثر معروف از اوست.

۳۵. جای خالی عبارت را، کدام واژه‌ها کامل می‌کند؟

۱. جامی - بهارستان
۲. حافظ - ساقی‌نامه
۳. قائم‌مقام - منشآت
۴. حبله رودی - جامع‌التمثیل

۳۶. با توجه به بیت «سر به هم آورده دیدم برگ‌های غنچه را / اجتماع دوستان یکدل‌م آمد به یاد» نهاد و مفعول در کدام گزینه آمده است؟

۱. نهاد: دوستان - مفعول: سر
۲. نهاد: اجتماع - مفعول: برگ
۳. نهاد: دوستان - مفعول: غنچه
۴. نهاد: برگ - مفعول: اجتماع

۳۷. در کدام بیت قافیه درست انتخاب نشده است؟

۱. چو ایران نباشد تن من مباد / بدین بوم و بر، زنده یک تن مباد
۲. مهر ناموس و زندگانی و دین / عزت و خاندان و مال و وطن
۳. به چشم مرحمت سویم نظر کن / شفیع آخرت خیرالبشر کن
۴. او خدو انداخت بر روی علی / افتخار هر نبی و هر ولی

۳۸. هم‌خانواده، مترادف و متضاد واژه «هجران» به ترتیب، در کدام گزینه آمده است؟

۱. مهاجر، غم، شادی
۲. هاجر، دوری، وصل
۳. مهجور، نالان، نزدیکی
۴. تجاهر، دوری، نشاط

۳۹. در کدام گزینه غلط املائی وجود دارد؟

۱. آن‌چنان این دو را به هم پیوند زد که دوگانگی از میان برخاست
۲. زبان، عامل انسجام و وحدت همه اقوام یک سرزمین است
۳. مقصود از ادبیات، همه آثار نظم و نثر است
۴. در راه، طراری بر وی باز خورد و آن زر بر حیلت ببرد

۴۰. کدام گزینه، معنای واژه «بر» نیست؟

۱. سینه
۲. بیابان
۳. بارگاه
۴. میوه

عربی

* هذا قميصٌ أم سرّال؟

۴۱. برای جای خالی جمله فوق، کدام کلمه پرسشی مناسب است؟

۱. مَنْ
۲. كَمْ
۳. أ
۴. ما

۴۲. کلمه‌های کدام گزینه متضاد یکدیگر نیستند؟

۱. جمیل - قبیح
۲. أم - والد
۳. بارد - حار
۴. خَلْف - وراء

* «... وَجَعَلْنَا مِنَ الْمَاءِ كُلَّ شَيْءٍ حَيًّا...»

۴۳. ترجمه آیه شریفه فوق، در کدام گزینه آمده است؟

۱. و ما هر چیز را با آب زنده کرده‌ایم
۲. و ما در جهان موجودات زنده قرار دادیم
۳. و ما هر چیز زنده‌ای را از آب قرار دادیم
۴. و ما هر چیز را از آب قرار دادیم

۴۴. کدام گزینه مترادف کلمه «أتى» است؟

۱. جاء
۲. ذهب
۳. رجع
۴. لعب

۴۵. جمله «أین یا بناتی؟» با کدام گزینه کامل می‌شود؟

۱. تَذَهَّبْنَ
۲. تَشْعُرْنَ
۳. تَفْهَمْنَ
۴. يَكْتَبْنَ

۴۶. معادل ماضی فعل «تَفَعَّلان» کدام گزینه است؟

۱. فَعَلْتُمَا
۲. فَعَلْنَا
۳. فَعَلْتَن
۴. فَعَلْتُمْ

۴۷. کدام گزینه پاسخ جمله «أَيُّهَا الزَّمِيلَانِ! أَيْنَ تَلْعَبَانِ؟» است؟

۱. نَلْعَبُ فِي السَّاحَةِ الْمَدْرَسَةِ □ ۲. تَلْعَبَانِ فِي الْمَلْعَبِ □ ۳. تَلْعَبُونَ فِي الشَّارِعِ □ ۴. أَلْعَبُ فِي الْبَيْتِ □

۴۸. ترجمه لغات «هَجْر - قَمَح - مَسْمُوح» به ترتیب چیست؟

۱. هجرت - جو - شنیدنی □ ۲. زشتی - گندم - مسؤولیت □ ۳. دوری - گندم - مجاز □ ۴. دوری - برنج - مجوز □

۴۹. کدام گزینه درست ترجمه نشده است؟

۱. تَهِيئَةُ مَبْنُوعَةٍ وَفَرشَاةٍ وَمَعْجُونِ أَسْنَانٍ: تَهِيئَةُ حَوْلِهِ وَمَسْوَاكِ وَخَمِيرِ دَنَدَانٍ □
 ۲. بَعْدَ رُجُوعِ الْأُمِّ قَالِ الْفَرَحُ الثَّلَاثُ: بَعْدَ أَزْ بَرِگَشْتَنِ، مَادِرَ بَهْ جَوَّجِهْ سَوْمِ گُفْتِ □
 ۳. أَيُّهَا الْفَلَّاحُونَ أَلَا تَجْمَعُونَ الْفَوَاكِهِ لِلْبَيْعِ؟ أَيُّ كِشَاوْرَزَانِ أَيَّا مِيوَهَا رَا بَرَايَ فَرْوَشِ جَمْعِ نَمِي كَنِيدَ؟ □
 ۴. يَغْتَبِرُ الْفَرَسُ ذَلِكَ النَّهْرَ بِسُهُولَةٍ: اَسْبَ اَزْ آن رُودخَانَهْ بَهْ اَسَانِيْ عُبُورِ مِي كَنْدِ □

۵۰. کدام گزینه درست ترجمه نشده است؟

۱. ریاضی: ورزشکار □ ۲. مَهْمَةُ اِدَارِيَّة: مَأْمُورِيَّة اِدَارِي □
 ۳. كُرَةُ الْمَنْضَدَةِ: تَنِيْسِ رُويِ مِيْزِ □ ۴. مَرَضُ السُّكَّرِ: فِشَارِ خُونِ □

تاریخ

۵۱. کدام گزینه، در مورد ترتیب حوادث عصر پیامبر ﷺ صحیح است؟

۱. مهاجرت به حبشه - تحریم اقتصادی و اجتماعی - تشکیل امت اسلامی در مدینه - پیمان نامه سیاسی □
 ۲. تحریم اقتصادی و اجتماعی - مهاجرت به حبشه - تشکیل امت اسلامی در مدینه - پیمان نامه سیاسی □
 ۳. مهاجرت به حبشه - پیمان نامه سیاسی - تشکیل امت اسلامی در مدینه - تحریم اقتصادی و اجتماعی □
 ۴. مهاجرت به حبشه - تشکیل امت اسلامی در مدینه - تحریم اقتصادی و اجتماعی - پیمان نامه سیاسی □

۵۲. کدام سلسله‌ها، نقش چشمگیری در رونق و شکوفایی فرهنگ و تمدن ایرانی - اسلامی داشتند؟

۱. علویان - طاهریان □ ۲. صفاریان - سامانیان □ ۳. سامانیان - آل بویه □ ۴. صفاریان - آل بویه □

۵۳. به ترتیب، یعقوب، امیر اسماعیل و عضدالدوله در کدام دولت فرمانروا بودند؟

۱. سامانیان - صفاریان - آل بویه □ ۲. آل بویه - سامانیان - صفاریان □
 ۳. صفاریان - سامانیان - آل بویه □ ۴. صفاریان - آل بویه - سامانیان □

۵۴. خلیفه عباسی به کدام پادشاه، لقب «سلطان رکن‌الدین» را داد؟

۱. محمود غزنوی □ ۲. طغرل □ ۳. مسعود غزنوی □ ۴. آلپ ارسلان □

۵۵. بهانهٔ چنگیزخان در حمله به ایران چه بود؟

۱. کشته شدن اعضای یک کاروان تجاری مغول □ ۲. افزایش جمعیت مغولان و کمبود مراتع □
 ۳. حمله به سرزمین‌های آباد و تصاحب ثروت □ ۴. دشمنی دیرینه مغولان با سلطان محمد خوارزمشاه □

۵۶. کدام گزینه، در مورد ایلخانان غلط است؟

۱. در دوران فرمانروایی آنان، ایران از نظر سیاسی یکپارچه و متحد شد □
 ۲. این حکومت، با سایر حکومت‌های مغولی در آسیا و دولت‌های اروپایی ارتباط برقرار کرد □
 ۳. حکام و سرداران محلی، تحت حاکمیت و سلطهٔ مغولان قرار گرفتند □
 ۴. هلاکوخان به همراه فرزندان و نوادگانش، حدود پنجاه سال بر ایران فرمان راندند □

۵۷. حکومت تیموریان به ترتیب، توسط چه کسی تأسیس شد و با ظهور کدام حکومت از میان رفت؟

۱. تیمور - سربداران □ ۲. شاهرخ - صفویان □ ۳. تیمور - صفویان □ ۴. شاهرخ - سربداران □

۵۸. یکی از کارهای ارزشمند خواجه نصیرالدین طوسی چه بود؟

۱. ساخت آرامگاهی به نام گنبد سلطانیه
۲. نوشتن کتاب‌های علمی مانند جامع التواریخ
۳. ساخت و وقف بنای ربع رشیدی در تبریز
۴. تشویق هلاکو به ساختن رصدخانه مراغه
۵۹. کدام گزینه از ویژگی‌های دوران خلافت عباسیان است؟

۱. ایرانیان در این دوره، در بسیاری از شورش‌ها حضور مؤثر داشتند
۲. اقوام غیر عرب از جمله ایرانیان مورد تحقیر و توهین قرار می‌گرفتند
۳. ایرانیان در سمت‌های مهمی چون وزارت و فرماندهی سپاه و حکومت شهرها نقش مهمی داشتند
۴. بنی‌عباس به قوم و نسب خود، فخرفروشی می‌کردند

۶۰. پدر شعر فارسی که با تشویق و حمایت سامانیان، اشعار خود را سرود چه نام داشت؟

۱. فردوسی
۲. عمر خیام
۳. حافظ
۴. رودکی

ریاضی

۶۱. کدام گزینه از همه بزرگتر است؟

۱. $-\frac{p}{3}$
۲. $-\frac{18}{5}$
۳. $-\frac{27}{4}$
۳. $-\frac{13}{3}$

۶۲. کدام گزینه صحیح نیست؟

۱. $16^4 = 2^{16}$
۲. $25^{10} = 5^{20}$
۳. $9^7 = 3^{21}$
۴. $49^7 = 7^{14}$

۶۳. در یک پنج ضلعی منتظم، اندازه هر زاویه خارجی چند درجه است؟

۱. 108°
۲. 72°
۳. 60°
۴. 144°

۶۴. ساده شده عبارت جبری زیر کدام است؟

$$-2(a - b - C) - (2b - 2a - 2C)$$

۱. صفر
۲. $4b$
۳. $4C$
۴. $-4b - 4C$

۶۵. مختصات بردار \vec{x} در معادله مقابل چقدر است؟

$$2 \times \begin{bmatrix} 4 \\ -5 \end{bmatrix} - 3x = \begin{bmatrix} -7 \\ +2 \end{bmatrix}$$

۱. $\begin{bmatrix} -5 \\ 4 \end{bmatrix}$
۲. $\begin{bmatrix} 5 \\ 4 \end{bmatrix}$
۳. $\begin{bmatrix} +5 \\ -4 \end{bmatrix}$
۴. $\begin{bmatrix} -5 \\ -4 \end{bmatrix}$

۶۶. مساحت شکل مقابل کدام است؟



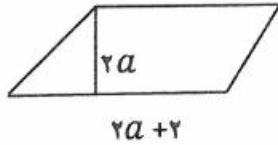
۱. ۴۹
۲. ۳۶
۳. ۵۴
۴. ۶۰

۶۷. علی در ۸ درس خود، معدل $17/5$ گرفته است. او در چند درس بعدی نمرات ۱۳ و ۱۹ و ۱۷ و ۲۰ گرفته است. معدل کل او چقدر

است؟

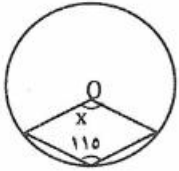
۱. $17/75$
۲. $17/41$
۳. $17/35$
۴. $17/64$

۶۸. مساحت متوازی الاضلاع روبرو برابر با کدام گزینه است؟



۱. $4a + 4$ ۲. $4a^3 + 4a^2$ ۳. $4a^2 + 4a$ ۴. $4a^2 + 4$

۶۹. در شکل مقابل، اندازه زاویه O چند درجه است؟



۱. ۷۵ ۲. ۱۳۰ ۳. ۶۵ ۴. ۱۵۰

۷۰. احتمال آمدن عدد زوج یا اول در پرتاب یک تاس چقدر است؟

۱. $\frac{4}{5}$ ۲. $\frac{2}{3}$ ۳. $\frac{5}{6}$ ۴. $\frac{1}{2}$

سبک و تفکر زندگی

۷۱. طبق فرمایش امام صادق (ع)، کدام رفتار زمینه تحقیر شدن را ایجاد می‌کند؟

۱. تکبر ۲. تمسخر ۳. ضعف در معاشرت ۴. بذله‌گویی

* «وَأَمَّا مَنْ خَافَ مَقَامَ رَبِّهِ وَنَهَى النَّفْسَ عَنِ الْهَوَىٰ * فَإِنَّ الْجَنَّةَ هِيَ الْمَأْوَىٰ»

۷۲. طبق آیه فوق، یکی از دروازه‌های ورود به بهشت چیست؟

۱. خویشتن‌داری ۲. عبادت ۳. امر به معروف و نهی از منکر ۴. عزت نفس

* نوعی فعالیت خلاق ذهن است که در آن، مقایسه، استدلال و تصور ذهنی وجود دارد و بلکه ابداعات و اختراعات بشر محصول آن می‌باشد.

۷۳. عبارت فوق، توضیح چیست؟

۱. تفکر ۲. تعقل ۳. اراده ۴. تخیل

۷۴. به هر نوع رفتار که سلامت جسمی و روانی یک فرد را تهدید کند چه گفته می‌شود؟

۱. رفتار نهاجمی ۲. رفتار پر خطر ۳. رفتار عصبی ۴. رفتار خشن

۷۵. کدام کشور از چهار صد سال قبل، جهت غارت منابع ملت‌ها از مواد مخدر استفاده می‌کرده است؟

۱. آمریکا ۲. پرتغال ۳. انگلیس ۴. اسپانیا

* «وَلَقَدْ كَرَّمْنَا بَنِي آدَمَ وَحَمَلْنَاهُمْ فِي الْبَرِّ وَالْبَحْرِ...»

۷۶. در آیه شریفه فوق، «كَرَّمْنَا» اشاره به چه نعمتی دارد؟

۱. بخشش ۲. عقل ۳. مختار بودن ۴. عزت نفس

۷۷. طبق فرمایش امام علی (ع): تعادل جسم را بر هم می‌زند و بدن آدمی را ویران می‌کند.

۱. تکبر ۲. غم و اندوه ۳. ناامیدی ۴. پرخوری

۷۸. در برخورد با دیگران، چه چیزی نشانه بالا بودن عزت نفس و سلامت اخلاق یک فرد است؟

۱. خوشرویی ۲. احترام گذاشتن ۳. کمک کردن ۴. حسن ظن

۷۹. طبق فرمایش پیامبر اکرم (ص) کدام عمل موجب سلامتی و روزی می‌شود؟

۱. روزه گرفتن ۲. مسافرت رفتن ۳. قناعت کردن ۴. رعایت بهداشت

۸۰ کدام گزینه درست نیست؟

۱. قانون عمل و عکس‌العمل، گویای تأثیر متقابل اعمال انسان بر خود، طبیعت و دیگران است
۲. درک فرد از خودش، هم محصول تجربیات گذشته و هم سازنده تجربیات جدیدی است که توانایی انجام آن را دارد
۳. به چیزهایی که ارزش ذاتی دارند «ارزش‌های جهانی» نیز می‌گویند
۴. خودپنداره انسان، تصویری از خود است که آموختنی نیست

معلومات عمومی

۸۱ کدام کتاب، تألیف جلال آل احمد نیست؟

۱. مدیر مدرسه ۲. شهر شب ۳. رنجی که می‌بریم ۴. خسی در میقات
- ۸۲ طبق کدام قرارداد، نواحی شرقی بلوچستان (بلوچستان پاکستان فعلی) از ایران جدا شد؟
۱. داری ۲. پاریس ۳. گلد اسمیت ۴. آخال

۸۳ آینه بغل اتومبیل، چه نوع آینه‌ای است و تصاویر را چگونه نشان می‌دهد؟

۱. آینه محدب، یعنی فرورفته - کوچک‌تر ۲. آینه مقعر، یعنی برآمده - بزرگ‌تر
۳. آینه محدب، یعنی برآمده - کوچک‌تر ۴. آینه مقعر، یعنی فرورفته - بزرگ‌تر

۸۴ کدام شهر، پایتخت کشور استرالیا است؟

۱. ملبورن ۲. کانبرا ۳. سیدنی ۴. آدلاید

۸۵ کدام دیکتاتور، سال‌ها بر مردم یمن حکومت کرد؟

۱. حسنی مبارک ۲. زین‌العابدین بن علی ۳. عبدالله صالح ۴. سرهنگ قذافی

۸۶ کدام گزینه از ارکان نماز است؟

۱. نیت ۲. قرائت ۳. تشهد ۴. سلام

۸۷ مؤسس حوزه علمیه قم چه کسی است؟

۱. آیت‌الله بروجردی ۲. امام خمینی ۳. آیت‌الله حائری یزدی ۴. میرزای قمی

۸۸ مراد از «لیلة المبيت» کدام شب است؟

۱. شبی که حضرت علی علیه السلام، حضرت فاطمه علیها السلام را مخفیانه به خاک سپردند

۲. شب هجرت پیامبر صلی الله علیه و آله که علی علیه السلام در بستر ایشان خوابیدند

۳. شب جمعه اول ماه رجب

۴. شبی که حضرت محمد صلی الله علیه و آله در چهل سالگی در غار حرا به پیامبری مبعوث شدند

۸۹ خرمشهر در چه تاریخی آزاد شد؟

۱. هشتم شهریور ۱۳۶۰ ۲. سی و یکم شهریور ۱۳۵۹ ۳. هفتم تیرماه ۱۳۶۱ ۴. سوم خرداد ۱۳۶۱

۹۰ کدام شهید، از شهدای هسته‌ای نیست؟

۱. داریوش رضایی‌نژاد ۲. حسن تهرانی‌مقدم ۳. مسعود علی‌محمدی ۴. مجید شهریاری

تست هوش


۹۱. کدام شکل به علتی با سه شکل دیگر فرق دارد؟



۴.



۳.



۲.



۱.

۹۲. جانوری هر روز صبح از یک چوب ۱۰ متری، ۲ متر بالا می‌رود و عصر ۱ متر پایین می‌آید. این جانور صبح روز چندم به بالای چوب می‌رسد؟

۱. هفتم ۲. هشتم ۳. نهم ۴. دهم

۹۳. حاصل جمع کدام عدد با تصویرش در آینه، عددی فرد خواهد بود؟

۱. ۱۵ ۲. ۱۷ ۳. ۱۸ ۴. ۷۱

۹۴. از چرخش شکل مقابل در خلاف جهت عقربه‌ی ساعت به اندازه 270° کدام یک از شکل‌های زیر حاصل می‌شود؟



۹۵. به جای علامت سؤال عدد مناسب قرار دهید.

۱. ۴ ۲. ۲۱ ۳. ۱۰ ۴. ۲۰

۹۶. کارگری با تجربه برای رنگ کردن دیواری، ۱۰ ساعت زمان لازم دارد. کارگری کم تجربه همان دیوار را در ۱۵ ساعت رنگ می‌کند.

برای اینکه این دو کارگر، دیوار را با هم در کوتاه‌ترین زمان رنگ بزنند، چه زمانی لازم است؟

۱. ۴ ساعت ۲. ۶ ساعت ۳. ۸ ساعت ۴. ۱۰ ساعت

۹۷. دو پیمانه کوچک و بزرگ داریم. ۲ پیمانه کوچک و ۳ پیمانه بزرگ، یک ظرف ۲۱ لیتری را پر می‌کنند و ۶ پیمانه کوچک و ۵ پیمانه بزرگ، یک ظرف ۴۳ لیتری را پر می‌کنند. گنجایش هر یک از پیمانه‌ها چند لیتر است؟

۱. ۱۰ و ۶ ۲. ۳ و ۵ ۳. $1/5$ و $2/5$ ۴. ۱ و ۲

۹۸. تعدادی تیر چراغ برق در مسیر یک کوچه نصب شده است. اگر تیر وسط، هشتمین تیر از ابتدای کوچه باشد، تیر چراغ ماقبل آخر، چندمین تیر است؟

۱. چهاردهمین ۲. سیزدهمین ۳. پانزدهمین ۴. دوازدهمین

۹۹. کدام یک از چهار بیت داده شده از نظر معنی با سه بیت دیگر تفاوت بیشتری دارد؟

۱. آدمی مخفی است در زیر زبان / این زبان پرده است بر درگاه جان

۲. تا مرد سخن نگفته باشد / عیب و هنرش نهفته باشد

۳. دو چیز طیره عقل است دم فرو بستن / به وقت گفتن و گفتن به وقت خاموشی

۴. کسی کز او هنر و عیب بازخواهی جست / بهانه ساز و به گفتارش اندر آر نخست

۱۰۰. نسبت پرتاب کردن به توپ مثل

۱. کشتن است به فشنگ ۲. شلیک کردن است به گلوله ۳. جواب است به سؤال ۴. دسته است به چاقو