



مرکز مدیریت حوزه‌های علمیه

معاونت آموزش

اداره کل سنجش و پذیرش


سوالات آزمون ورودی

موزه‌های علمیه سراسر کشور

پایه هشتم

مدت پاسخگویی: ۱۵۰ دقیقه

تعداد سوالات: ۱۰۰ سؤال



سال تحصیلی ۹۵-۹۶

حمیدرضا فلاح
حمیدرضا فلاح تفتی



السلام علیک یا ابا عبدین



خانه • گالری تصاویر • آرشیو نمانگ • تماس با ما

لینکدونی

نجوای حضرت رقیه با پدر در خرابه شام (42)

شش ماه گریه برای اجابت یک حاجت (34)

سربندی از جنس نور (31)

امام حسین در انتظار شهید، عملیات والفجر (33)

آخرین خداحافظی (85)

روح شهید حسین غفاری نژاد زنده است و با داعش می جنگد (89)

پنج سال خاطره با شهید حسین غفاری نژاد + فیلم منتشر نشده (94)

مجموعه مناجات های تصویری ماه مبارک رمضان با نوای عبدالرضا هلالی (158)



تازه های وبلاگ

گزارش تصویری دسته عزاداری طلاب
مدرسسه علمیه شهیدین در روز شهادت

چرکت دسته عزاداری طلاب مدرسسه علمیه شهیدین در روز
جمعه ۲۸ اسفند ۱۳۹۴
نظر (۱۰)



اشک های امام صادق در غربت فاطمیون

از بنشار فکاری نقل شده است که گوید: در شهر کوفه به
شنبه ۲۲ اسفند ۱۳۹۴
نظرات



گنجی به نام امام زمان علیه السلام

یکی از طلاب حوزه علمیه قم عنایتی از امام زمان ارواحنا فداه
جمعه ۳۰ بهمن ۱۳۹۴
نظرات




مشاهده آرشیو وبلاگ



ایمیل برای خبرنامه



hrfallah - 74w



ترسم تو ببایی و من آن روز نباشم

236

10

Instagram

قرآن

۱. کدام واژه قرآنی به معنای «روی گردان» است؟

۱. مُعْرِض ۲. صَافَات ۳. وَدَق ۴. زَكَامًا

۲. امام علی علیه السلام در توصیه به امام حسن علیه السلام قلب نوجوان را به چه چیزی تشبیه می‌کند؟

۱. کاغذ سفید آماده نوشتن هر مطلبی بر آن ۲. زمین آماده پذیرش هر بذری

۳. دریای موج و پرخروش ۴. نهالی آماده رشد و بالندگی

* ﴿تَبَارَكَ الَّذِي نَزَّلَ الْفُرْقَانَ عَلَى عَبْدِهِ...﴾

۳. معنای «فرقان» چیست؟

۱. برپاکننده حق ۲. هشداردهنده ۳. وسیله تشخیص حق از باطل ۴. اندازه گیرنده

* ﴿وَهُوَ الَّذِي جَعَلَ اللَّيْلَ لِبَاسًا وَالنَّوْمَ سُبَاتًا وَجَعَلَ النَّهَارَ نُشُورًا﴾ * وَهُوَ الَّذِي أَرْسَلَ الرِّيحَ بُشْرًا لِّبَنِي يَدْيِ رَحْمَتِهِ وَأَنْزَلْنَا مِنَ السَّمَاءِ مَاءً طَهُورًا ﴿

۴. با توجه به این دو آیه، کدام گزینه غلط است؟

۱. روز برای تلاش و زندگی است ۲. شب، مایه آرامش است

۳. آب، پاک و پاک کننده است ۴. بادهای بشارت دهنده اند

۵. ترجمه ﴿إِنْ أَجْرِيَ إِلَّا عَلَى رَبِّ الْعَالَمِينَ﴾ کدام است؟

۱. به درستی که حرکت می‌کنم به سوی پروردگار مردم ۲. حرکت نمی‌کنم مگر به سوی پروردگار مردم

۳. نیست پاداش من مگر بر عهده پروردگار جهانیان ۴. اجیر نمی‌شوم و کار نمی‌کنم مگر برای پروردگار جهانیان

* ﴿وَتَرَى الْجِبَالَ تَحْسَبُهَا جَامِلًا وَهِيَ تَمْرٌ مَرَّ السَّحَابِ﴾

۶. از آیه مذکور کوه‌ها فهمیده می‌شود.

۱. عظمت ۲. باران آوری ۳. استحکام ۴. حرکت

۷. معنای عبارت «لَوْ كَانُوا يَعْلَمُونَ» کدام است؟

۱. ای کاش می‌دانستند ۲. اگر بخواهند بفهمند ۳. اگر می‌دانستند ۴. باشد که بدانند

* ﴿وَدَاعِبًا إِلَى اللَّهِ بِإِذْنِهِ وَ.... مُنِيرًا﴾؛ و دعوت کننده‌ای به سوی خدا به فرمان او و چراغی روشنی بخش.

۸. با توجه به ترجمه، کدام کلمه برای جای خالی مناسب است؟

۱. زجاجاً ۲. دليلاً ۳. صراطاً ۴. سراجاً

* کسانی که در راه ما کوشش کنند، قطعاً به راه‌های خود هدایتشان می‌کنیم.

۹. این عبارت، ترجمه کدام آیه است؟

۱. ﴿وَالَّذِينَ جَاهَدُوا فِينَا لَنَهْدِيَنَّهُمْ سُبُلَنَا﴾ ۲. ﴿هُدًى وَرَحْمَةً لِّلْمُحْسِنِينَ﴾

۳. ﴿أُولَئِكَ عَلَى هُدًى مِّن رَّبِّهِمْ وَأُولَئِكَ هُمُ الْمُفْلِحُونَ﴾ ۴. ﴿الَّذِينَ آمَنُوا وَعَمِلُوا الصَّالِحَاتِ فَهُمْ فِي رَوْضَةٍ يُحْبَرُونَ﴾

* ﴿يَعْلَمُ مَا يَلِجُ فِي الْأَرْضِ﴾

۱۰. معنای «يَلِجُ» چیست؟

۱. نازل می‌شود ۲. داخل می‌کند ۳. فرو می‌رود ۴. خارج می‌شود

۱۱. ﴿فَأَنَّى تُؤْفَكُونَ﴾ یعنی

۱. پس به کجا می‌روید؟ ۲. پس چرا افترا می‌زنید؟

۳. پس چگونه قضاوت می‌کنید؟ ۴. پس چگونه منحرف می‌شوید؟

* ﴿وَالَّذِينَ اجْتَنَبُوا الطَّاغُوتَ أَنْ يَعْبُدُوهَا وَأَنَابُوا إِلَى اللَّهِ لَهُمُ الْبُشْرَىٰ فَبَشِّرْ عِبَادِ * الَّذِينَ يَسْتَمِعُونَ الْقَوْلَ فَيَتَّبِعُونَ أَحْسَنَهُ أُولَٰئِكَ الَّذِينَ هَدَاهُمُ اللَّهُ وَأُولَٰئِكَ هُمُ أُولُو الْأَلْبَابِ﴾

۱۲. کدام ویژگی «عباد» در آیات فوق نیامده است؟

۱. شنیدن و بررسی اقوال گوناگون ۲. مبارزه با طاغوت ۳. توبه ۴. خردمندی
۱۳. «مُفْلِحُونَ» به معنای است.

۱. احسان کنندگان ۲. رزمندگان پیروز ۳. کشاورزان ۴. رستگاران
- * ﴿فَمَنْ يُرِدِ اللَّهُ أَنْ يَهْدِيَهُ يَشْرَحْ صَدْرَهُ لِلْإِسْلَامِ وَمَنْ يُرِدْ أَنْ يُضِلَّهُ يَجْعَلْ صَدْرَهُ ضَيِّقًا حَرَجًا كَأَمَا يَصْعَدُ فِي السَّمَاءِ﴾

۱۴. کدام گزینه، از آیه استفاده می‌شود؟

۱. کمبود اکسیژن در ارتفاعات ۲. امکان پرواز به کرات آسمانی
۳. اضطراب، ضلالت است ۴. شرح صدر، هدایت است

۱۵. کدام گزینه ترجمه «قَادِرِينَ عَلَىٰ أَنْ تُسَوِّيَ بَنَانَهُ» است؟

۱. می‌توانیم بنای معتدلی برپا کنیم ۲. قدرتمند بر برپایی عدالت هستیم
۳. تواناییم بر اینکه سر انگشتانش را درست کنیم ۴. ما قدرت داریم که بنای اول را بازسازی کنیم

دینی

* در روز قیامت درباره ولایت ما اهل بیت از شما سؤال خواهد شد.

۱۶. امام صادق علیه السلام مطلب مذکور را مفاد کدام آیه دانستند؟

۱. ﴿يَوْمَ نَذُحُكُلَّ أَنْاسٍ بِأَمَامِهِمْ...﴾ ۲. ﴿ثُمَّ لَنَسْأَلَنَّ يَوْمَئِذٍ عَنِ النَّعِيمِ﴾
۳. ﴿وَإِذَا الْمَوْءُودَةُ سُئِلَتْ﴾ ۴. ﴿لَا يُسْأَلُ عَمَّا فَعَلُوا وَهُمْ يُسْأَلُونَ﴾

* تو (ای پیامبر) فقط تذکر دهنده‌ای.

۱۷. این عبارت، ترجمه کدام آیه است؟

۱. ﴿إِنَّ أَنْتَ إِلَّا نَذِيرٌ﴾ ۲. ﴿وَمَا أَرْسَلْنَاكَ إِلَّا مُبَشِّرًا وَنَذِيرًا﴾ ۳. ﴿... إِنَّمَا أَنْتَ مُذَكِّرٌ﴾ ۴. ﴿يَا أَيُّهَا النَّبِيُّ إِنَّا أَرْسَلْنَاكَ شَاهِدًا...﴾

۱۸. کدام مورد، حق النفس است؟

۱. دوری از گناهان ۲. امر به معروف ۳. مطالعه کردن ۴. آزار نرساندن به دیگران

۱۹. «بسیار آمرزنده» با کدام کلمه مترادف است؟

۱. غَفَّار ۲. رثوف ۳. رحمان ۴. ستار

* روزی رسول خدا صلی الله علیه و آله به من فرمود: یا علی؛ آنچه برایت می‌گویم، بنویس!

۲۰. چرا پیامبر صلی الله علیه و آله به امام علی علیه السلام دستور نوشتن دادند؟

۱. جلوگیری از فراموشی ۲. برای امامان بعدی ۳. مکتوب شدن علوم نبوی ۴. رساندن فرمایشات حضرت به مردم

۲۱. مهم‌ترین و حساس‌ترین پیام در طول رسالت پیامبر صلی الله علیه و آله کدام است؟

۱. ﴿فَمَنْ يَعْمَلْ مِثْقَالَ ذَرَّةٍ خَيْرًا يَرَهُ * وَمَنْ يَعْمَلْ مِثْقَالَ ذَرَّةٍ شَرًّا يَرَهُ﴾ ۲. «إِنِّي تَارِكٌ فِيكُمْ الثَّقَلَيْنِ...»

۳. «... من كنت مولاة فهذا علي مولاة...» ۴. ﴿... وَجَاهِدُوا بِأَمْوَالِكُمْ وَأَنْفُسِكُمْ...﴾

۲۲. پیامبر صلی الله علیه و آله چه چیزی را مانند چشمه آبی دانستند که بر در خانه کسی جریان دارد و او خود را در آن شستشو می‌دهد؟

۱. روزه ۲. جهاد ۳. ولایت ۴. نماز

۲۳. در کدام زمان، تلاوت یک آیه، پاداش تلاوت تمام قرآن را دارد؟

۱. جمعه ۲. ماه رمضان ۳. روز غدیر ۴. عید فطر

* «يَا أَيُّهَا الَّذِينَ آمَنُوا كُتِبَ عَلَيْكُمُ الصِّيَامُ كَمَا كُتِبَ عَلَى الَّذِينَ مِن قَبْلِكُمْ ...»

۲۴. با توجه به جای خالی، مهم‌ترین فایده روزه چیست؟

۱. تقویت صبر ۲. توجه به محرومان ۳. تقوا ۴. سلامتی جسم و جان

۲۵. طبق روایت پیامبر اکرم ﷺ در چه صورت خداوند متعال شیرینی ارتباط با خودش را در دل بنده‌اش ایجاد می‌کند؟

۱. چشم‌پوشی از نگاه به نامحرم ۲. عفو و گذشت نسبت به دیگران
۳. سحرخیزی و نماز شب ۴. احسان به پدر و مادر

۲۶. اصلی‌ترین شگرد شرکت‌های بزرگ برای فروش اجناس خود چیست؟

۱. بازاریابی ۲. رقابت با شرکت‌های دیگر از طریق قیمت عرضه

۳. رقابت با شرکت‌های دیگر از طریق کیفیت ۴. مَدَسازی

۲۷. طبق بیان پیامبر ﷺ از ده جزء عبادت، نه جزء آن است.

۱. صبر ۲. کسب حلال ۳. تفکر ۴. مهربانی با دیگران

۲۸. طبق روایت حضرت علی علیه السلام انسان چه زمانی شناخته می‌شود؟

۱. هنگام نماز ۲. هنگام ادای دین ۳. هنگامی که سخن می‌گوید ۴. هنگام وفای به عهد

۲۹. در کدام صورت، نماز باطل می‌باشد؟

۱. نماز خواندن با بدن یا لباس آلوده به خون کمتر از یک سکه کوچک ۲. نماز خواندن با جوراب نجس و خشک

۳. نماز خواندن با لباسی که فقط دکمه‌های آن غصبی باشد ۴. دیدن نجاست لباس یا بدن، پس از نماز

۳۰. کدام گزینه از مبطلات روزه است؟

۱. خون دادن ۲. کشیدن دندان

۳. فرو بردن عمدی غذای باقی مانده در میان دندان‌ها ۴. ریختن عمدی آب بر روی سر

فارسی

۳۱. هم‌خانواده، مترادف و متضاد کلمه «عجول» به ترتیب چیست؟

۱. معالجه، پیشرو، حلیم ۲. استعلاج، نگران، فکور ۳. عجله، تندرو، حکیم ۴. استعجال، شتابان، صبور

۳۲. کتاب «روح الارواح» اثر کیست؟

۱. قائم مقام فراهانی ۲. سمعانی ۳. رشید الدین فضل الله ۴. قشیری

۳۳. با توجه به معنای واژگان، املائی کدام واژه غلط است؟

۱. زایا: خَلَّاق ۲. احتزاز: جنیدن ۳. جزر: پایین رفتن آب دریا ۴. ستوار: ثابت

۳۴. در کدام گزینه، وابسته پیشین وجود ندارد؟

۱. این دغل دوستان که می‌بینی / مگس‌انند گرد شیرینی

۳. هر روز، یک شعر زیبا بخوان

۳۵. قالب شعری کدام اثر، مثنوی نیست؟

۱. شاهنامه فردوسی ۲. بوستان سعدی ۳. دیوان شمس ۴. لیلی و مجنون نظامی

۳۶. «حکم» جمع کدام واژه است؟

۱. حکمت ۲. حُکم ۳. حکیم ۴. حاکم

۳۷. در تشبیه، کدام یک از ارکان می‌تواند حذف شود؟

۱. مشبه و ادات تشبیه ۲. وجه شبه و ادات تشبیه ۳. مشبه و وجه شبه ۴. مشبه به و وجه شبه

۳۸. در کدام گروه اسمی، «هسته» درست مشخص شده است؟

۱. دُم کشیده و پر نقش و نگار طاووس ۲. فضایل انسانی ۳. سه درس بهلول به جنید ۴. این باغ پر از گل
۳۹. با توجه به بیت «سر به هم آورده دیدم برگ‌های غنچه را / اجتماع دوستان یکدل آمد به یاد» نهاد و مفعول در کدام گزینه آمده است؟

۱. نهاد: اجتماع - مفعول: برگ ۲. نهاد: دوستان - مفعول: غنچه
۳. نهاد: برگ - مفعول: اجتماع ۴. نهاد: دوستان - مفعول: سر

۴۰. آرایهٔ مقابل کدام گزینه غلط است؟

۱. گاهی گردباد کوچکی لنگ‌لنگان از راه می‌رسید ← «تشخیص»
۲. خورشید از پشت کوه‌ها سرک می‌کشید و سلاح‌های آهنی را برق می‌انداخت ← «تشخیص»
۳. تعدادی بمب را مثل شانهٔ تخم‌مرغ روی تانک‌های دشمن خالی کرده بود ← «تشبیه»
۴. در مقابل آن آینه‌ها خودشان را برای سال نو آماده می‌کردند ← «کنایه»

عربی

* در سه سؤال زیر، گزینهٔ مناسب را برای جای خالی انتخاب کنید.

۴۱. هذا كتاب أم لوح؟

۱. مَنْ ۲. أ ۳. لماذا ۴. أين

۴۲. ماذا أيها النسوة.

۱. فعلن ۲. يقرن ۳. تكتبن ۴. تضربين

۴۳. أختي أنت الآن في الصف الرابع و بشرط الموقية الصف الخامس.

۱. دَخَلتَ ۲. دَخَلتِ ۳. تَدخُلُ ۴. تَدخُلِينَ

۴۴. کلمات کدام گزینه با هم متضادند؟

۱. بارد - حار ۲. أمام - اطراف ۳. ولد - ابن ۴. کتاب - قرآن

۴۵. مترادف «جاء» کدام است؟

۱. عاد ۲. أخذ ۳. رجع ۴. أتى

۴۶. جملهٔ «تلعب في ساحة المدرسة» پاسخ کدام پرسش است؟

۱. ماذا تلعبان أيها الزميلان؟ ۲. أيها الزميلان، أين تلعبان؟ ۳. أين تذهبان أيها الزميلان؟ ۴. أيها الزميلون لِمَ تلعبون؟

۴۷. کدام گزینه درست ترجمه شده است؟

۱. كرة المنضدة: تنیس روی میز ۲. مهمته اداريه: اساس نامهٔ مؤسسه
۳. ریاضی: دانشمندان ۴. مرض السكر: فشار خون

۴۸. ترجمهٔ کدام گزینه درست است؟

۱. «تَكْفُرُونَ اللَّهَ»: به خدا کفر می‌ورزند ۲. ﴿وَجَعَلْنَا مِنَ الْمَاءِ كُلَّ شَيْءٍ حَيٍّ﴾: و هر چیز زنده را از آب قرار می‌دهیم
۳. «تَجَلِسُ عَلَى الكرسی»: او بر صندلی می‌نشیند ۴. «تَعْجَبِينَ مِنَ أمر الله»: تو از کار خدا تعجب کردی

۴۹. ترجمه کدام کلمه غلط است؟

۱. مَصْنَع: اسباب بازی ۲. لَوْحَة: تابلو ۳. فائِز: برنده ۴. غَالِيَة: گران

* في هذه المحافظة غابات و أنهار و أزهار و بساتين و عيون و شلالات جميلة.

۵۰. عربی کدام کلمه، در متن بالا نیست؟

۱. میوه ۲. بستان ۳. جنگل ۴. آبشار

تاریخ

۵۱. مشرکان پس از آنکه نتوانستند ابوطالب را در پشتیبانی از رسول خدا ﷺ منصرف کنند، به چه شیوه‌ای روی آوردند؟

۱. پیشنهاد ریاست قوم و قبیله به پیامبر ﷺ و اعطای ثروت فراوان به وی ۲. آزار و شکنجه پیامبر ﷺ و مسلمانان
۳. زیر سؤال بردن نبوت پیامبر ﷺ و تخریب شخصیت ایشان ۴. تحریم پیامبر ﷺ و یارانش در شعب ابی طالب

۵۲. کدام واقعه در سال دهم بعثت رخ داد؟

۱. پیمان‌نامه اول مردم یثرب با پیامبر ﷺ ۲. پیمان‌نامه دوم مردم یثرب با پیامبر ﷺ
۳. مهاجرت مسلمانان به حبشه ۴. رحلت حضرت خدیجه و ابوطالب ﷺ

۵۳. تاریخ کدام رویداد پس از بقیه است؟

۱. جنگ خیبر ۲. فتح مکه ۳. صلح حدیبیه ۴. جنگ خندق

۵۴. کدام جنگ، از جنگ‌های زمان حکومت امام علی ﷺ نیست؟

۱. جمل ۲. صفین ۳. حنین ۴. نهروان

۵۵. اعراب مسلمان، در کجا ضربه نهایی را بر ارتش ساسانی وارد ساختند؟

۱. قادسیه ۲. مرو ۳. تیسفون ۴. نهاوند

۵۶. برمکیان به دست کدام خلیفه عباسی از قدرت برکنار، زندانی و کشته شدند؟

۱. سفاح ۲. منصور ۳. هارون الرشید ۴. متوکل

۵۷. سلطان محمود غزنوی با چه بهانه‌ای به هندوستان لشکرکشی می‌کرد؟

۱. رواج اسلام ۲. سرکوب توطئه‌گران هندی
۳. بازگرداندن هند، به عنوان اینکه در گذشته جزوی از ایران بوده است ۴. نجات مردم هند از حاکمان ظالم

۵۸. کدام کار به پیشنهاد و تشویق خواجه نصیرالدین طوسی انجام شد؟

۱. ساختن بنای ریح رشیدی در تبریز ۲. انتقال پایتخت به سلطانیه و ساختن گنبد سلطانیه
۳. ساختن رصدخانه مراغه ۴. برپایی شنب‌غازان و دوازده بنای مهم دیگر در تبریز

۵۹. قیام سرداران در چه زمانی رخ داد؟

۱. همزمان با فروپاشی حکومت ایلخانان ۲. پس از مرگ هلاکوخان
۳. اندکی پس از هجوم هولناک چنگیز به ایران ۴. همزمان با هجوم تیمور به ایران

۶۰. کدام شهرها پایتخت سلجوقیان بود؟

۱. تبریز، همدان، ری ۲. ری، نیشابور، اصفهان ۳. همدان، سلطانیه، اصفهان ۴. بغداد، مراغه، تبریز

ریاضی

۶۱. حاصل عبارت $\frac{5}{13} - \frac{3}{8}$ کدام است؟

۱. $\frac{1}{13}$ ۲. $-\frac{1}{13}$ ۳. $-\frac{1}{4}$ ۴. $\frac{1}{4}$

۶۲. عدد ۱۳۹۵ چه نوع عددی است؟

۱. عدد اول ۲. عدد مرکب ۳. نه اول و نه مرکب ۴. هم اول و هم مرکب

۶۳. مجموع زوایای داخلی پنج ضلعی منتظم چند درجه است؟

۱. 540° ۲. 720° ۳. 360° ۴. 450°

۶۴. حاصل عبارت $(x-1)(x^2+x+1)$ کدام است؟

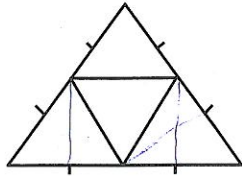
۱. $x^3 - x$ ۲. $x^3 + 1$ ۳. $x^3 - 1$ ۴. $x^3 + x^2 - 1$

۶۵. اگر بردار $\vec{a} = 7\vec{i} - 3\vec{j}$ و $\vec{b} = \vec{i} + 7\vec{j}$ باشد، بردار \vec{x} از معادله $\vec{b} - 7\vec{a} = 3\vec{x} - \vec{j}$ کدام است؟

۱. $\vec{x} = \vec{i} - 3\vec{j}$ ۲. $\vec{x} = \vec{i} + 3\vec{j}$ ۳. $\vec{x} = 3\vec{j} - \vec{i}$ ۴. $\vec{x} = \vec{i} + \vec{j}$

۶۶. در شکل مقابل چند مثلث هم‌نهشت وجود دارد؟

۱. ۲ ۲. ۳ ۳. ۴ ۴. ۵



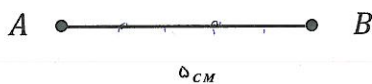
۶۷. حاصل $\sqrt{\frac{49 \times 134}{75}}$ کدام است؟

۱. $1/4$ ۲. $1/68$ ۳. $5/44$ ۴. $-44/5$

۶۸. میانگین نمره ده درس، $16/5$ است. اگر نمره دو درس دیگر ۱۵ و ۱۸ باشد، میانگین نمره کل کدام است؟

۱. ۱۵ ۲. ۱۶ ۳. $16/5$ ۴. ۱۷

۶۹. دو نقطه A و B به فاصله ۵ سانتی‌متر در صفحه وجود دارد (مانند شکل مقابل)، چند نقطه در صفحه وجود دارد که از A به فاصله



۳ و از B به فاصله ۴ سانتی‌متر باشد؟

۱. ۲ نقطه ۲. ۱ نقطه ۳. ۴ نقطه ۴. بی‌شمار نقطه

۷۰. جواب معادله $\frac{1}{y} - \frac{y-1}{4} = \frac{3}{4}$ کدام است؟

۱. ۱ ۲. $3/4$ ۳. $-3/4$ ۴. ۰ (صفر)

سبک و تفکر زندگی

* نوعی فعالیت خلاق ذهن است که در آن مقایسه، استدلال و تصور ذهنی وجود دارد و بلکه ابداعات و اختراعات بشر محصول آن می‌باشد.

۷۱. عبارت فوق، توضیح چیست؟

۱. تعقل ۲. تخیل ۳. تفکر ۴. اراده

۷۲. کدام کشور از چهار صد سال قبل، جهت غارت منابع ملت‌ها از مواد مخدر استفاده می‌کرده است؟

۱. پرتغال ۲. اسپانیا ۳. آمریکا ۴. انگلیس

۷۳. طبق فرمایش امام علی علیه السلام: تعادل جسم را بر هم می‌زند و بدن آدمی را ویران می‌کند.

۱. غم و اندوه ۲. پر خوری ۳. تکبر ۴. ناامیدی

۷۴. طبق فرمایش امام صادق علیه السلام، کدام رفتار زمینه تحقیر شدن را ایجاد می‌کند؟

۱. ضعف در معاشرت ۲. تکبر ۳. بذله‌گویی ۴. تمسخر

* «وَلَقَدْ كَرَّمْنَا بَنِي آدَمَ وَحَمَلْنَا هُمُ فِي الْبَرِّ وَالْبَحْرِ...»

۷۵. در آیه شریفه فوق «كَرَّمْنَا» اشاره به چه نعمتی دارد؟

۱. عقل ۲. عزت نفس ۳. بخشش ۴. مختار بودن

* «وَأَمَّا مَنْ خَافَ مَقَامَ رَبِّهِ وَنَهَى النَّفْسَ عَنِ الْهَوَىٰ * فَإِنَّ الْجَنَّةَ هِيَ الْمَأْوَىٰ»

۷۶. طبق آیه فوق، یکی از دروازه‌های ورود به بهشت چیست؟

۱. عزت نفس ۲. امر به معروف و نهی از منکر ۳. خویشتن‌داری ۴. عبادت

۷۷. کدام گزینه درست نیست؟

۱. به چیزهایی که ارزش ذاتی دارند «ارزش‌های جهانی» نیز می‌گویند
 ۲. درک فرد از خودش، هم محصول تجربیات گذشته و هم سازنده تجربیات جدیدی است که توانایی انجام آن را دارد
 ۳. خودپنداره انسان، تصویری از خود است که آموختنی نیست

۴. قانون عمل و عکس‌العمل، گویای تأثیر متقابل اعمال انسان بر خود، طبیعت و دیگران است

۷۸. در برخورد با دیگران، چه چیزی نشانهٔ بالا بودن عزت نفس و سلامت اخلاق یک فرد است؟

۱. حسن ظن ۲. کمک کردن ۳. خوشرویی ۴. احترام گذاشتن

۷۹. طبق فرمایش پیامبر اکرم ﷺ کدام عمل موجب سلامتی و روزی می‌شود؟

۱. مسافرت رفتن ۲. قناعت کردن ۳. رعایت بهداشت ۴. روزه گرفتن

۸۰. به هر نوع رفتار که سلامت جسمی و روانی یک فرد را تهدید کند چه گفته می‌شود؟

۱. رفتار عصبی ۲. رفتار تهاجمی ۳. رفتار پر خطر ۴. رفتار خشن

معلومات عمومی

۸۱. نام‌گذاری «روز دختر» به چه مناسبتی صورت گرفته است؟

۱. شهادت حضرت فاطمه ۲. میلاد حضرت زینب
 ۳. میلاد حضرت معصومه ۴. میلاد حضرت فاطمه

۸۲. جملهٔ «سیاست ما عین دیانت ماست» از کیست؟

۱. امام خمینی ۲. شهید مطهری ۳. آیت‌الله مدرس ۴. آیت‌الله کاشانی

۸۳. امام خمینی کدام حادثه را «نوشیدن جام زهر» اعلام کردند؟

۱. تنفیذ حکم ریاست جمهوری بنی‌صدر
 ۲. کشتار حجاج در مراسم برائت از مشرکین در حج سال ۱۳۶۶
 ۳. کشته شدن ۲۹۰ نفر مسافر هواپیمای ایرباس توسط ناو آمریکایی
 ۴. پذیرش قطعنامهٔ ۵۹۸ سازمان ملل در جنگ تحمیلی

۸۴. آغاز و پایان جنگ تحمیلی عراق علیه ایران به ترتیب، در چه سال‌هایی است؟

۱. ۱۳۵۷ - ۱۳۶۷ ۲. ۱۳۵۹ - ۱۳۶۷ ۳. ۱۳۵۹ - ۱۳۶۹ ۴. ۱۳۵۸ - ۱۳۶۸

۸۵. دومین کشور از جهت وسعت کدام است؟

۱. کانادا ۲. آمریکا ۳. برزیل ۴. چین

۸۶. مرز ایران با کدام کشور همسایه کوتاه‌تر است؟

۱. آذربایجان ۲. ترکیه ۳. عراق ۴. پاکستان

۸۷. کتاب کدام پیامبر «زبور» نام دارد؟

۱. حضرت نوح ۲. حضرت یعقوب ۳. حضرت زکریا ۴. حضرت داوود

۸۸. کدام سوره، سجده واجب دارد؟

۱. رعد ۲. نجم ۳. نحل ۴. قمر

۸۹. «شیخ اجل» لقب کیست؟

۱. حافظ ۲. سعدی ۳. مولوی ۴. شمس تبریزی

۹۰. کدام دعا با محوریت تجدید پیمان با امام زمان است؟

۱. صباح ۲. کمیل ۳. عهد ۴. فرج

تست هوش

۹۱. اتوبوسی ۳۲ مسافر دارد. در ایستگاه اول ۷ نفر پیاده می‌شوند و ۳ نفر سوار می‌شوند. در ایستگاه دوم دو برابر تعدادی که در ایستگاه

اول سوار شدند، پیاده می‌شوند و ۲ نفر سوار می‌شوند. اینک چند نفر در اتوبوس سوارند؟

۱. ۲۵ نفر ۲. ۲۶ نفر ۳. ۲۷ نفر ۴. ۲۸ نفر

۹۲. به جای «؟» چه عددی قرار می‌گیرد؟

۱. ۲۸ ۲. ۵۶ ۳. ۱۰۲۴ ۴. ۶۵۵۳۶

۹۳. سن کنونی محمد سه برابر سن ۶ سال قبل اوست. محمد چند ساله است؟

۱. ۲۴ ۲. ۳۶ ۳. ۱۸ ۴. ۹

۹۴. در کیسه‌ای ۴ مداد قرمز، ۳ مداد آبی و ۷ مداد سیاه وجود دارد. بدون نگاه کردن به داخل کیسه چند مداد باید برداریم که حتماً یک

مداد آبی داشته باشیم؟

۱. ۶ ۲. ۸ ۳. ۱۲ ۴. ۱۴

* در دو پرسش زیر، کدام گزینه با بقیه متفاوت است؟

۹۵. ۱. پنیر ۲. روغن ۳. شیر ۴. ماست

۹۶. ۱. عقاب ۲. خفاش ۳. گوسفند ۴. ببر

۹۷. نسبت «ضی» به «سع» مانند «ق» است به:

۱. ف ۲. ه ۳. ح ۴. ق

۹۸. پسر خاله پدر علی، پسر عمه حسین است. حسین چه نسبتی با پدر علی دارد؟

۱. پسر عمو ۲. پسر دایی ۳. پسر خاله ۴. پسر عمه

۹۹. «الف» به «ث» مثل «ح» است به

۱. پ ۲. چ ۳. ر ۴. ش

۱۰۰. کدام شکل با بقیه فرق دارد؟

۱.  ۲.  ۳.  ۴. 

* تذکر: به جهت مؤانست ذهن داوطلبان با منابع آزمون، از ذکر القاب و عناوین خارج از منابع، اجتناب شده است.